

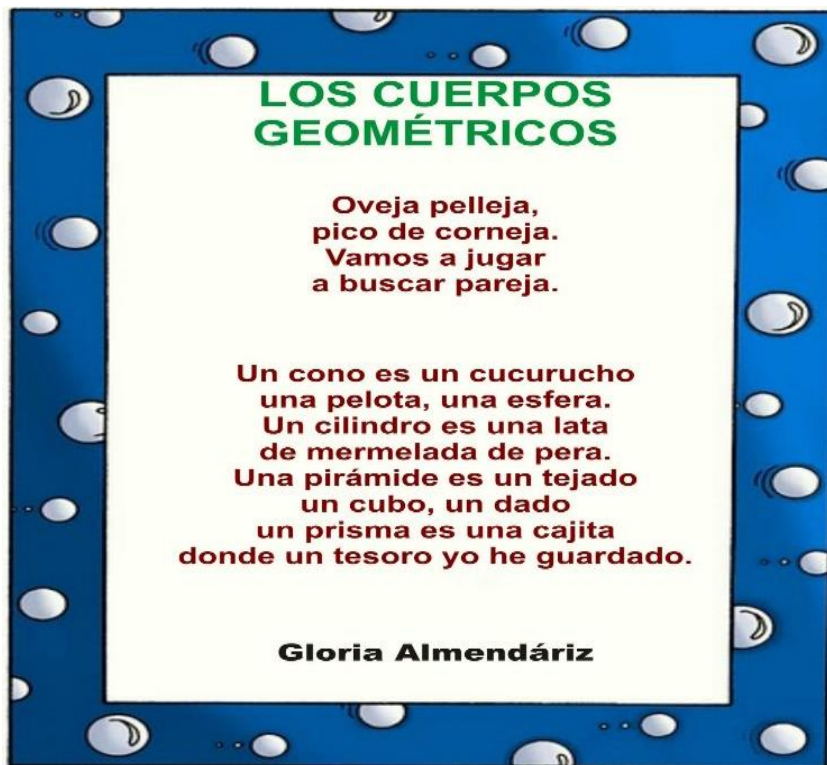
3º GRADO "B"

MATEMÁTICA 8º entrega



*Escribo la fecha y dejo esta actividad consignada en la carpeta

Cuerpos Geométricos



➤ Subraya en la poesía **LOS CUERPOS GEOMÉTRICOS** que se nombran.

➤ Completa estas oraciones con palabras de la poesía

Al cono lo compara con un _____.

La pelota es como una _____.

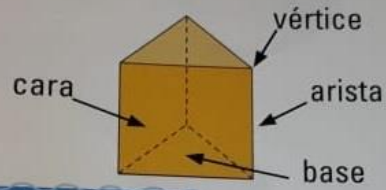
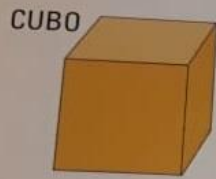
Un cilindro es una _____.

El dado es un _____.

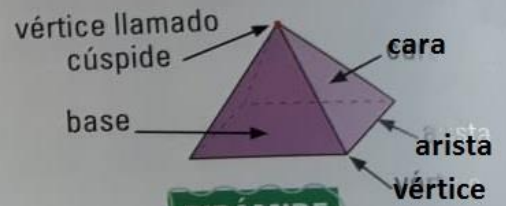
El prisma sería una _____.

¿Cómo son los cuerpos geométricos?

Algunos tienen todas sus caras planas, como los **prismas** y las **pirámides**.



PRISMAS



PIRÁMIDE

Otros cuerpos tienen caras curvas y planas, como el **cilindro** y el **cono**, o ninguna cara plana, como la **esfera**.



Las bases son círculos.




No debes confundir los **CUERPOS GEOMÉTRICOS** (prismas cuadrados, prismas triangulares, cilindro, esfera, cono, pirámides) con **LAS FIGURAS GEOMÉTRICAS** que de ellos se derivan: rectángulo, círculo, cuadrado y triángulo.



CUERPOS GEOMÉTRICOS no es igual a FIGURAS GEOMÉTRICAS

Y lo verás en el siguiente ejercicio:

- Une con una flecha cada cuerpo que apoyamos en la arena con la huella que dejó:



*Escribo la fecha y dejo esta actividad consignada en la carpeta

Ejercitación matemática!!!

➤ ¿A cuánto equivalen los números subrayados?

Ej: en el 637 el 3 vale 30 unidades o lo que es lo mismo, 3 decenas.

1. 637 _____ 4. 849 _____ 7. 335 _____

2. 109 _____ 5. 752 _____ 8. 916 _____

3. 412 _____ 6. 526 _____ 9. 293 _____

➤ **Escribo el resultado de la descomposición de números:**

10. $200 + 10 + 3 =$ _____

15. $100 + 20 + 7 =$ _____

11. $500 + 80 + 7 =$ _____

16. $600 + 10 + 6 =$ _____

12. $300 + 90 + 1 =$ _____

17. $200 + 60 + 8 =$ _____

13. $700 + 50 + 6 =$ _____

18. $800 + 30 + 3 =$ _____

14. $900 + 30 + 4 =$ _____

19. $400 + 40 + 4 =$ _____

➤ **Descompongo las siguientes cifras:**

20. $871 =$ _____

21. $1810 =$ _____

22. $2020 =$ _____

23. $5371 =$ _____

➤ **Escribe con números:**

24. **cuatro mil ciento dieciocho =**

25. **cuatro mil ciento ocho =**

Has terminado tu tarea de hoy!

